

■ 次の牌姿の点数を答えなさい

(各1点)

/16

※ルールは日本プロ麻雀連盟公式ルールとする。ドラはないものとする。

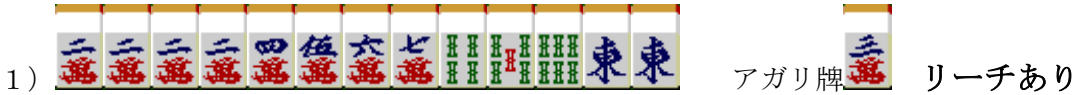


アガリ牌

			リーチなし	リーチあり
東場	親 (東家)	ロンアガリ		
		ツモアガリ	オール	オール
	子 (北家)	ロンアガリ		
		ツモアガリ	,	,
南場	親 (東家)	ロンアガリ		
		ツモアガリ	オール	オール
	子 (北家)	ロンアガリ		
		ツモアガリ	,	,

■ 次の牌姿の点数を答えなさい。東1局 子は南家とする。ドラはないものとする。 (各1点)

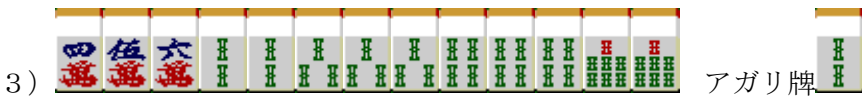
/20



親ツモ	オール	親ロン	子ツモ	,	子ロン
-----	-----	-----	-----	---	-----



親ツモ	オール	親ロン	子ツモ	,	子ロン
-----	-----	-----	-----	---	-----



親ツモ	オール	親ロン	子ツモ	,	子ロン
-----	-----	-----	-----	---	-----



親ツモ	オール	親ロン	子ツモ	,	子ロン
-----	-----	-----	-----	---	-----



親ツモ	オール	親ロン	子ツモ	,	子ロン
-----	-----	-----	-----	---	-----



■以下の問について答えなさい。全て日本プロ麻雀連盟公式ルールとする。(各1点) /9

○A と B 正しい方を答えなさい。

- サイコロは全て (A.一度振り B.二度振り) である。\_\_\_\_\_
- 最終局が流局で終了した場合、リーチ棒は (A.トップ取り B.供託) となる。\_\_\_\_\_
- 半荘終了時、同点の者がいた場合、順位点は (A.東家に近い方優先 B.分け) となる。\_\_\_\_\_
- 一人の打牌に対し、二人からロンがかかった場合、  
(A.放銃者の次にツモの順番が先の者のアガリ B.ダブロンあり) となる。\_\_\_\_\_
- 持ち点は開局時、各自 (A.25000点 B.30000点) である。\_\_\_\_\_
- 四を四五六と晒し、四を切ることが (A.できる B.できない)。\_\_\_\_\_
- 誤ロンは発声のみで倒牌していない時、(A.アガリ放棄 B.チョンボ) となる。\_\_\_\_\_
- パオが適用される役満は (A.3つ B.4つ) である。\_\_\_\_\_
- 途中流局となる条件は、全部で (A.4つ B.5つ) である。\_\_\_\_\_

○以下の持ち点で南4局を迎えた。以下の場合 各者のポイントを順位点込みで記しなさい。(各2点) /4

南家(A) 26,500点 西家(B) 32,200点 北家(C) 35,600点 東家(D) 25,700点

※1,000点を1ポイント、100点を0.1ポイントとする。

※プラスの場合は数値前に+を、マイナスの場合は△を書くものとする

- |                           |              |              |              |              |
|---------------------------|--------------|--------------|--------------|--------------|
| 1. AがBから5,200点をロンあがりした時   | <u>  A  </u> | <u>  B  </u> | <u>  C  </u> | <u>  D  </u> |
| 2. Aが2,000・3,900をツモアガリした時 | <u>  A  </u> | <u>  B  </u> | <u>  C  </u> | <u>  D  </u> |

○以下の用語の意味を簡潔に説明しなさい。(各1点) /5

- 河底牌 \_\_\_\_\_
- 順子 \_\_\_\_\_
- 栄和 \_\_\_\_\_
- 包 \_\_\_\_\_
- 嵌張 \_\_\_\_\_

○何を切れば一番受け入れ枚数が増えるか答えよ。答えが複数あるときは全て答えなさい。(各2点) /10

※マンズは漢数字(一・二・三)、ピンズは丸囲み文字(①、②、③)、ソーズは算用数字(1. 2. 3)で答えよ。

1.	
----	--

■ 次の牌姿の点数を答えなさい

(各1点)

/16


※ルールは日本プロ麻雀連盟公式ルールとする。ドラはないものとする。



			リーチなし	リーチあり
東場	親 (東家)	ロンアガリ	5800	11600
		ツモアガリ	2600オール	4000オール
	子 (北家)	ロンアガリ	3900	7700
		ツモアガリ	1300, 2600	2000, 4000
南場	親 (東家)	ロンアガリ	3900	7700
		ツモアガリ	2000オール	3900オール
	子 (北家)	ロンアガリ	2600	5200
		ツモアガリ	1000, 2000	2000, 3900

■ 次の牌姿の点数を答えなさい。東1局 子は南家とする。ドラはないものとする。 (各1点)

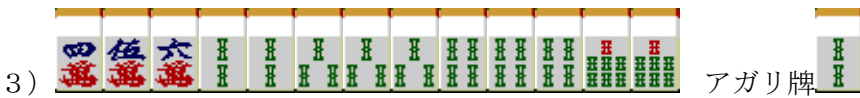
/20



親ツモ	1300 オール	親ロン	2000	子ツモ	500, 1000	子ロン	1300
-----	----------	-----	------	-----	-----------	-----	------



親ツモ	2000 オール	親ロン	3400	子ツモ	1200, 2300	子ロン	2300
-----	----------	-----	------	-----	------------	-----	------



親ツモ	4000 オール	親ロン	5800	子ツモ	2000, 4000	子ロン	3900
-----	----------	-----	------	-----	------------	-----	------



親ツモ	4000 オール	親ロン	11600	子ツモ	2000, 4000	子ロン	7700
-----	----------	-----	-------	-----	------------	-----	------



親ツモ	1600 オール	親ロン	4400	子ツモ	1600, 3200	子ロン	5800
-----	----------	-----	------	-----	------------	-----	------



■以下の問について答えなさい。全て日本プロ麻雀連盟公式ルールとする。 (各1点) /9

○AとB正しい方を答えなさい。

- サイコロは全て (A.一度振り B.二度振り) である。  A
- 最終局が流局で終了した場合、リーチ棒は (A.トップ取り B.供託) となる。  B
- 半荘終了時、同点の者がいた場合、順位点は (A.東家に近い方優先 B.分け) となる。  B
- 一人の打牌に対し、二人からロンがかかった場合、  
(A.放銃者の次にツモの順番が先の者のアガリ B.ダブロンあり) となる。  A
- 持ち点は開局時、各自 (A.25000点 B.30000点) である。  B
- 四を四五六と晒し、四を切ることが (A.できる B.できない)。  B
- 誤ロンは発声のみで倒牌していない時、(A.アガリ放棄 B.チョンボ) となる。  B
- パオが適用される役満は (A.3つ B.4つ) である。  A
- 途中流局となる条件は、全部で (A.4つ B.5つ) である。  B

○以下の持ち点で南4局を迎えた。以下の場合 各者のポイントを順位点込みで記しなさい。(各2点) /4

南家(A) 26,500点 西家(B) 32,200点 北家(C) 35,600点 東家(D) 25,700点

※1,000点を1ポイント、100点を0.1ポイントとする。

※プラスの場合は数値前に+を、マイナスの場合は△を書くものとする

- AがBから5,200点をロンあがりした時  A +5.7    B △7.0    C +13.6    D △12.3
- Aが2,000・3,900をツモアガリした時  A +12.4    B +1.2    C +6.6    D △20.2

○以下の用語の意味を簡潔に説明しなさい。(各1点) /5

- 河底牌  最後のツモ牌である海底牌をツモった人の捨て牌
- 順子  数字順に三牌揃ったメンツの形
- 栄和  他家の捨て牌によるアガリのこと、ロンアガリ
- 包  特定の和了役も確定させる牌を鳴かせること
- 嵌張  13や68などの真ん中の牌が抜けているターツの形

○何を切れば一番受け入れ枚数が増えるか答えよ。答えが複数あるときは全て答えなさい。(各2点) /10

※マンズは漢数字(一・二・三)、ピンズは丸囲み文字(①、②、③)、ソーズは算用数字(1. 2. 3)で答えよ。

1.		<u> ⑦ </u>
2.		<u> ⑦ </u>
3.		<u> 四 </u>
4.		<u> 四 </u>
5.		<u> 三 六 </u>